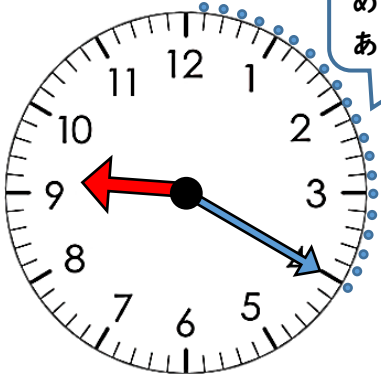


とけい
時計をよもう③

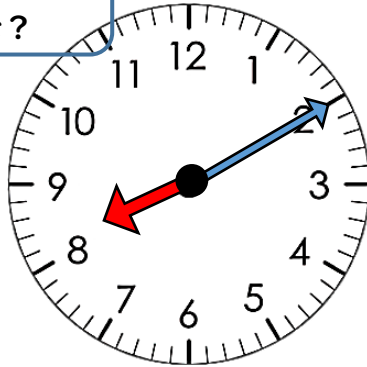
名前： _____

○時計のじこくを ^か書きましょう

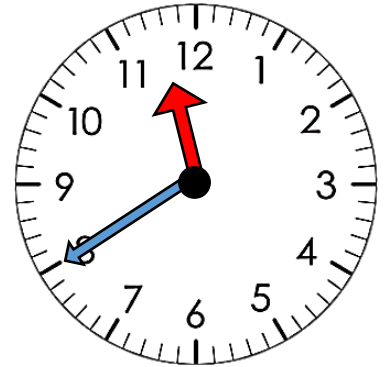
ヒント!
めもりはいくつ
あるかな?



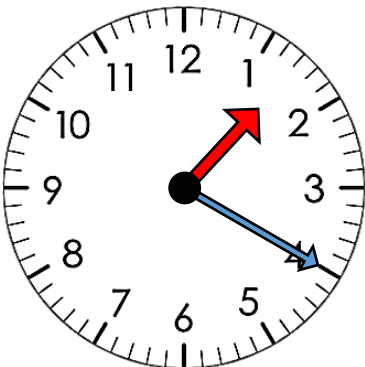
時 分



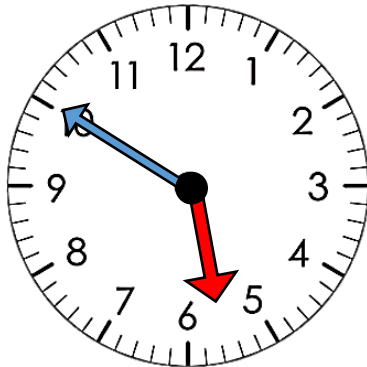
時 分



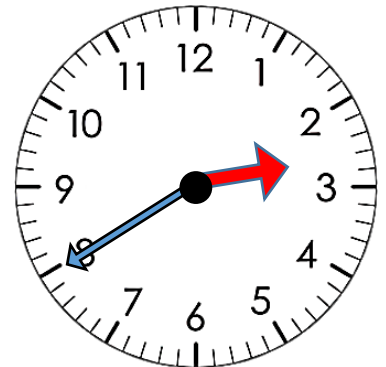
時 分



時 分

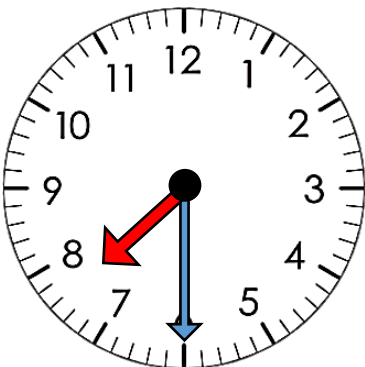


時 分



時 分

つぎの じこくを ^{こた}答えましょう。



1, 時計のじこくは, ____ 時 ____ 分です。

2, 10分前^{ぶんまえ}のじこくは, ____ 時 ____ 分です。

3, 10分後^{ぶんご}のじこくは, ____ 時です。