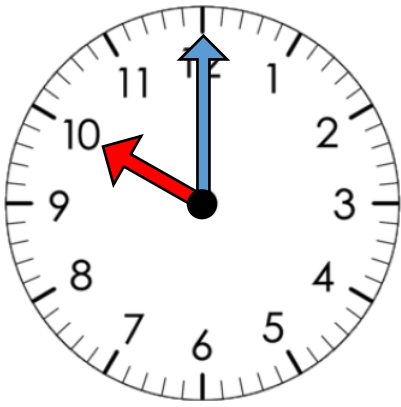


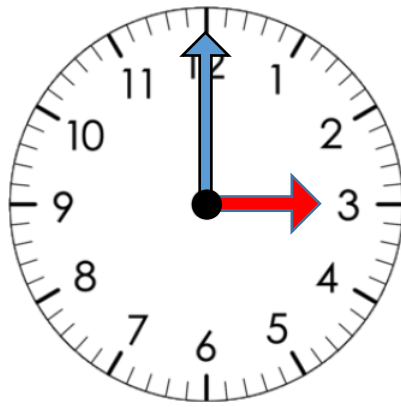
とけい
時計をよもう①

名前： _____

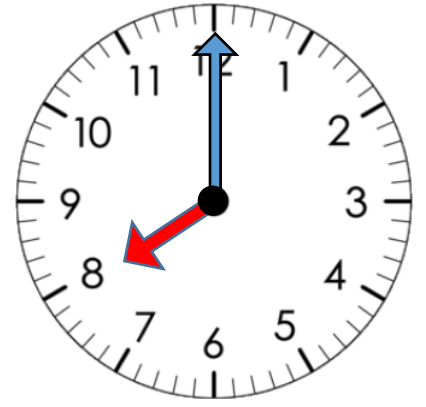
○時計のじこくを ^か書きましょう



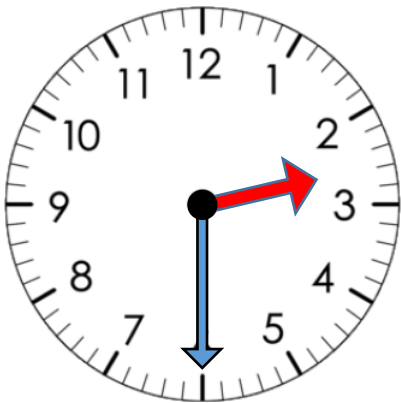
時



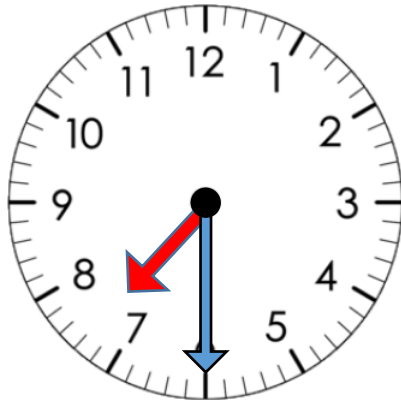
時



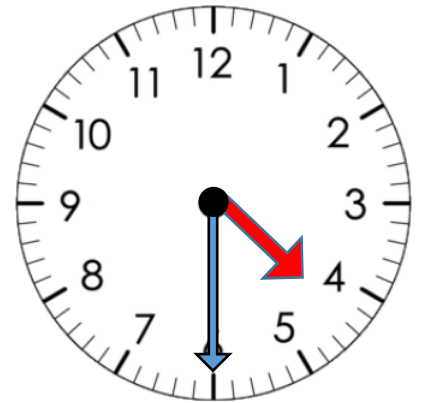
時



時 分

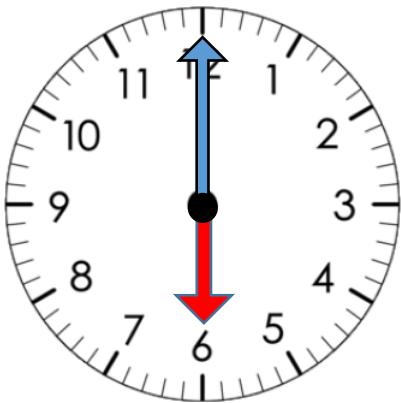


時 分



時 分

つぎの じこくを ^{こた}答えましょう。



1, 時計のじこくは, _____ 時です。

2, 30分^{ぶんご}後のじこくは, _____ 時 _____ 分です。

3, 30分^{ぶんまえ}前のじこくは, _____ 時 _____ 分です。