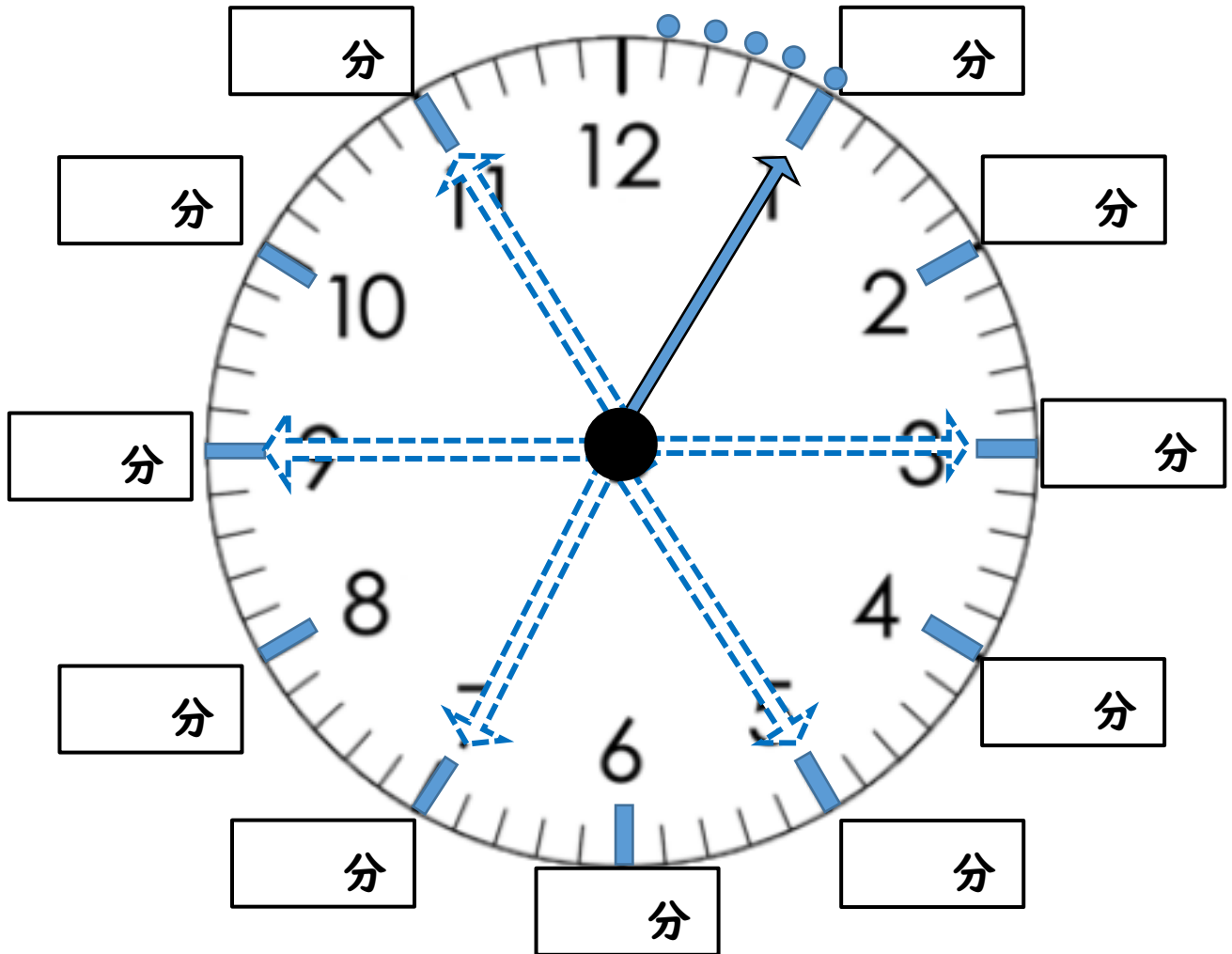



とけい  
時計を読む「5分きざみ」


名前： \_\_\_\_\_


なが はり さ  
○長い針が指している「分」を 書きましょう





 かくにん  
確認しましょう。


- 

なが  
長い はりが 「1」のときは, \_\_\_\_\_ 分です。
- 

なが  
長い はりが 「3」のときは, \_\_\_\_\_ 分です。
- 

なが  
長い はりが 「5」のときは, \_\_\_\_\_ 分です。
- 

なが  
長い はりが 「7」のときは, \_\_\_\_\_ 分です。
- 

なが  
長い はりが 「9」のときは, \_\_\_\_\_ 分です。
- 

なが  
長い はりが 「11」のときは, \_\_\_\_\_ 分です。